



# Chào mừng các em đến với tiết Toán



Giáo viên: Lê Thị Thanh





Thứ năm, ngày 2 tháng 12 năm 2024



# TOÁN

## BÀI 19

PHÉP CỘNG (CÓ NHỚ) SỐ CÓ  
HAI CHỮ SỐ VỚI SỐ CÓ MỘT CHỮ SỐ  
(tiết 1)






Tôi có 35  
hạt gạo



Vậy kiến có bao  
nhiều hạt gạo nhỉ?

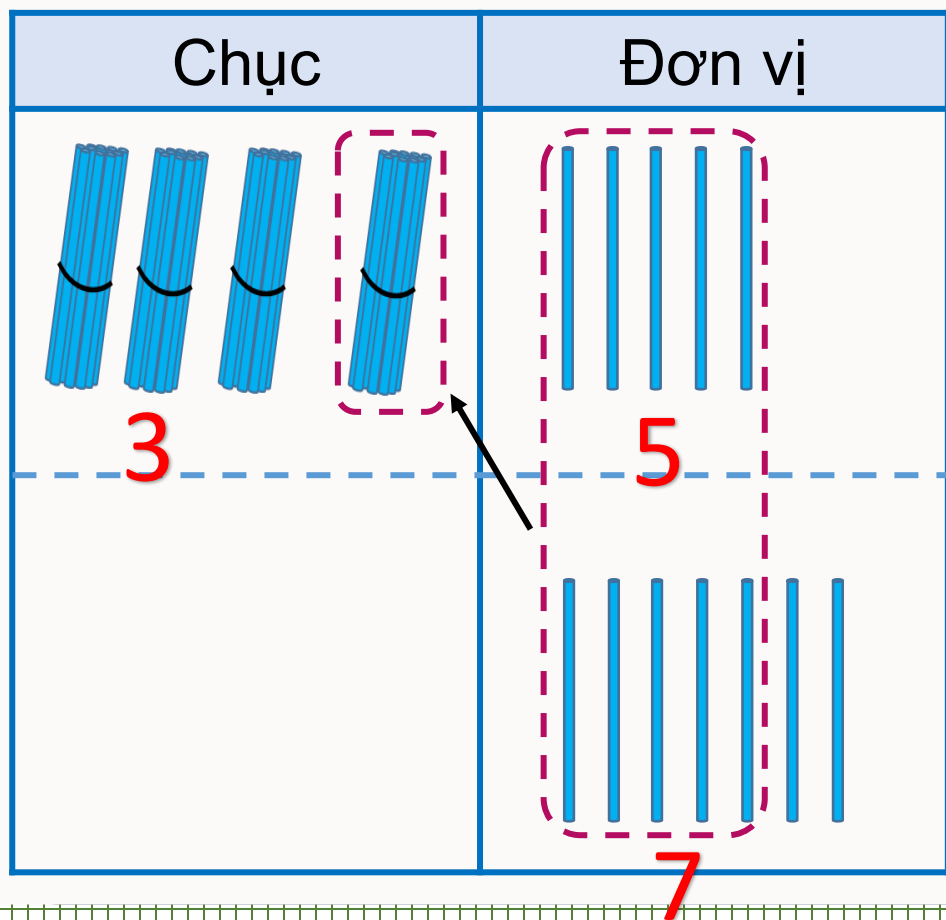


Chị kiến ơi, tôi trả cho  
chị 7 hạt gạo này!





$$35 + 7 = ?$$



Tôi có 35 hạt gạo.

Vậy kiến có bao nhiêu hạt gạo?



Chị kiến ơi, tôi trả cho chị 7 hạt gạo.



$$\begin{array}{r} 35 \\ + 7 \\ \hline 42 \end{array}$$

- 5 cộng 7 bằng 12, viết 2 nhớ 1
- 3 thêm 1 bằng 4, viết 4

$$35 + 7 = 42$$



1 Tính.

$$\begin{array}{r} 28 \\ + 3 \\ \hline 31 \end{array}$$

$$\begin{array}{r} 78 \\ + 9 \\ \hline 87 \end{array}$$

$$\begin{array}{r} 57 \\ + 7 \\ \hline 64 \end{array}$$

$$\begin{array}{r} 13 \\ + 7 \\ \hline 20 \end{array}$$

2 Đặt tính rồi tính.

$35 + 6$

$47 + 8$

$89 + 2$

$63 + 9$

## ② Đặt tính rồi tính.

$35 + 6$

$47 + 8$

$89 + 2$

$63 + 9$

2.

$$\begin{array}{r} 35 \\ + \quad 6 \\ \hline \end{array}$$

41

$$\begin{array}{r} 47 \\ + \quad 8 \\ \hline \end{array}$$

55

$$\begin{array}{r} 89 \\ + \quad 2 \\ \hline \end{array}$$

91

$$\begin{array}{r} 63 \\ + \quad 9 \\ \hline \end{array}$$

72



3 Mỗi chum đựng số lít nước là kết quả của phép tính ghi trên chum. Hỏi chum nào đựng nhiều nước nhất?



A




B



C



A



B



C

$$59l + 9l = 68l$$

$$61l + 9l = 70l$$

$$57l + 4l = 61l$$

➔ Vậy chum B đựng nhiều nước nhất.